

Bagnan College

B.Sc. PART – II General Practical Examinations – 2021 (1+1+1 2009 Regulations)

ZOOG






PAPER 3

Date: 29.01.2022

Full Marks-50

Time- 2 hours (10 AM-12NOON)

1. তেলাপিয়ার পুরুষ রেচন জননতন্ত্রের (male urino-genital) চিহ্নিত চিত্র অঙ্কন করো। 6+4=10
2. আরশোলার মুখোপাঙ্গের চিহ্নিত চিত্র অঙ্কন করো। 3+2=5
3. বৈশিষ্ট্য সহ সনাক্ত করো। (পর্ব এবং নমুনা প্রাণীটির সনাক্তকরণ বৈশিষ্ট্য ও নমুনা প্রাণীটির বিজ্ঞানসম্মত নাম লিখবে) 5×5=25

A	B	C	D	E
				

4. বৈশিষ্ট্য সহ সনাক্ত করো।

2×5=10

A	B
